

CONTABILIDAD  
**SELECCIÓN ÚNICA**

- 1) Considere la siguiente información sobre principios contables:

Implica dividir las actividades económicas de una compañía en períodos tales como un mes, un trimestre o un año, este último es legal y oficial.

¿A cuál principio contable hace referencia la información anterior?

- A) Valor histórico
- B) Período contable
- C) Dualidad económica
- D) Revelación suficiente

- 2) Lea la siguiente información sobre empresas comerciales:

Detalle de algunas cuentas de un balance.	<u>Monto en ¢</u>
Terrenos	15 000 000
Vehículos	5 000 000
Inventarios	600 000
Mobiliario y equipo	2 000 000
Hipotecas por pagar	5 000 000
Herramientas mayores	1 000 000
Inversiones transitorias	2 500 000
Depreciación acumulada propiedad, planta y equipo.	2 825 000

De acuerdo con la información anterior, ¿cuál es el monto de la sección del balance, propiedad, planta y equipo neto?

- A) ¢20 175 000
- B) ¢19 600 000
- C) ¢20 000 000
- D) ¢20 275 000

3) Lea la siguiente información sobre empresas de servicio:

La empresa Servicios del Sur, muestra algunas cuentas del balance de comprobación al 30 de setiembre del 2013:	
Caja	₡1 500 000
Bancos	₡1 750 000
Gastos por salarios	₡1 000 000
Gastos por publicidad	₡250 000
Ingresos por servicios	₡700 000
Cuentas por pagar	₡800 000
Capital social	₡2 000 000

De acuerdo con la información anterior, ¿cuánto suman las cuentas reales?

- A) ₡6 050 000
- B) ₡3 500 000
- C) ₡1 950 000
- D) ₡700 000

4) La Comercial S.A, presenta la siguiente información para el mes de enero de 2009:

Nombre de cuenta	Monto ₡
Compras	2 275 300
Devoluciones y bonificaciones sobre compras	41 300
Descuento sobre compras	52 440
Fletes sobre compras	25 450
Inventario inicial	225 325
Inventario final	355 000

Según la información anterior, ¿cuál es el costo de la mercadería disponible para la venta?

- A) ₡2 077 335
- B) ₡2 336 685
- C) ₡2 432 335
- D) ₡2 619 815

5) Lea la siguiente información:

Compañía Arenas, S.A.(balanza de comprobación) al 30 de setiembre, 2014 (en ₡ C.R.)	
Bancos	2 070 000
Edificios	12 625 000
Terrenos	2 300 000
Capital social	12 082 500
Gastos por sueldos	97 500
Cuentas por cobrar	412 500
Ingresos por ventas	3 970 000
Depreciación acumulada edificios	1 452 500

Al utilizar la información anterior, ¿cuál es el total de las sumas iguales de balanza de comprobación por saldos?

- A) ₡15 955 000
- B) ₡16 052 500
- C) ₡17 505 000
- D) ₡35 010 000

6) Considere la siguiente información sobre efectivo:

El 01 de noviembre de 2014, se establece un fondo de caja chica de ₡ 750 000. Posteriormente el 15 de noviembre el custodio hizo el siguiente reporte de comprobantes de salida para la reposición respectiva de la primera quincena del fondo:

Viáticos ₡ 285 000  
Papelería ₡ 73 600  
Vales provisionales ₡ 47 500  
Vales de caja chica por transporte ₡ 45 000  
El día de la reposición el dinero en efectivo en monedas y billetes era de ₡ 300 100.

Con base en la información anterior, ¿cuál es el monto del faltante o sobrante de caja chica el día de la reposición?

- A) Faltante por ₡1 200
- B) Sobrante por ₡1 200
- C) Faltante por ₡298 900
- D) Sobrante por ₡298 900

7) Considere la siguiente información sobre efectivo:

Datos de la empresa El Sol S. A, necesarios para elaborar la conciliación bancaria:

Nota de crédito (sin registrar) ₡ 373 212

Depósito en tránsito ₡ 2 241 000

Nota de débito (sin registrar) ₡ 4 226 148

Cheques pendientes de cobro ₡ 4 418 910

Saldo según libros ₡ 22 525 000

Saldo según bancos ₡ 21 749 974

Documento cobrado por el banco a favor de la empresa ₡ 900 000, el cual no había sido registrado por la empresa.

¿Cuál es el saldo de la conciliación ajustada?

- A) ₡18 679 302
- B) ₡19 572 064
- C) ₡22 714 884
- D) ₡26 064 936

8) Considere la siguiente información sobre cuentas por cobrar:

Ventas a crédito brutas	₡ 41 693 250
Fletes sobre ventas a crédito	₡ 424 500
Porcentaje de estimación de incobrables	3,75%

Saldo anterior al ajuste de la cuenta estimación por cuentas incobrables ₡ 237 000 (acreedor).

Con base en la información anterior y al utilizar el método de porcentaje de las ventas a crédito netas, ¿cuál es el monto que debe usarse en el asiento de ajuste para estimar el porcentaje de cuentas incobrables?

- A) ₡1 326 496, 88
- B) ₡1 563 496, 88
- C) ₡1 579 415, 63
- D) ₡1 800 496, 88

9) Lea la siguiente información sobre cuentas por cobrar:

La empresa Comercial del Oeste S. A, realizó ventas al crédito por ₡ 8 000 000, más el impuesto de ventas y a un plazo de 30 días.

De acuerdo con la información anterior, ¿cuál monto registra cuentas por cobrar en el asiento de diario?

- A) ₡ 9 040 000
- B) ₡ 8 000 000
- C) ₡ 7 079 646
- D) ₡ 1 040 000

10) Lea la siguiente información sobre cuentas por pagar:

Una empresa comercial realiza compras de mercadería para posteriormente ser vendidas a sus clientes por un monto de ₡ 4 000 000, más el 13% de impuesto de ventas, en el mismo acto realiza un abono del 15% con un cheque y el resto a crédito a 30 días plazo. La empresa utiliza el sistema periódico para registrar sus inventarios.

¿Cuál es el asiento de diario para registrar la transacción anterior?

- |    |                              |             |             |
|----|------------------------------|-------------|-------------|
| A) | Inventario de mercaderías    | ₡ 4 000 000 |             |
|    | Impuesto de ventas por pagar | 520 000     |             |
|    | Banco                        |             | ₡ 678 000   |
|    | Cuentas por pagar            |             | 3 842 000   |
|    |                              |             |             |
| B) | Inventario de mercaderías    | ₡ 4 520 000 |             |
|    | Cuentas por pagar            |             | ₡ 3 842 000 |
|    | Banco                        |             | 678 000     |
|    |                              |             |             |
| C) | Compra de mercaderías        | ₡ 4 520 000 |             |
|    | Banco                        |             | ₡ 678 500   |
|    | Cuentas por pagar            |             | 3 842 000   |
|    |                              |             |             |
| D) | Compra de mercaderías        | ₡ 4 000 000 |             |
|    | Impuesto de ventas por pagar | 520 000     |             |
|    | Banco                        |             | ₡ 678 000   |
|    | Cuentas por pagar            |             | 3 842 000   |

11) Considere la siguiente información sobre documentos por pagar:

El 01 de mayo de 2010, una compañía compra a 1 año plazo un equipo de cómputo, el cual queda prendado, por la suma de ₡ 5 000 000, con el impuesto de ventas incluido, para ser utilizado en el departamento de gerencia general de la compañía.

¿Cuál asiento de diario realiza el comprador para registrar la transacción anterior?

- |    |                                    |             |             |
|----|------------------------------------|-------------|-------------|
| A) | Equipo de cómputo                  | ₡ 5 000 000 |             |
|    | Impuesto de ventas                 | ₡ 650 000   |             |
|    | Documentos por pagar corto plazo   |             | ₡ 5 650 000 |
| B) | Equipo de oficina                  | ₡ 5 000 000 |             |
|    | Documentos por pagar a largo plazo |             | ₡ 5 000 000 |
| C) | Documentos por pagar corto plazo   | ₡ 5 000 000 |             |
|    | Equipo de cómputo                  |             | ₡ 5 000 000 |
| D) | Equipo de cómputo                  | ₡ 5 000 000 |             |
|    | Documentos por pagar corto plazo   |             | ₡ 5 000 000 |

12) Considere la siguiente información sobre compras de mercaderías para el inventario:

Fecha	Unidades	Precio de compra ₡
Octubre 2013	560	2 750
Enero 2014	720	2 790
Marzo 2014	980	2 810
Mayo 2014	700	2 840
Agosto 2014	790	2 880

El inventario final fue de 860 unidades. Al iniciar el período (octubre 2013) no había unidades en existencia.

De acuerdo con la información anterior, ¿cuál es el valor del inventario final en colones, al final del mes de agosto de 2014 al utilizar el método PEPS?

- A) 2 474 000
- B) 2 549 100
- C) 8 120 200
- D) 8 216 700

13) Lea la siguiente información sobre inventarios:

Fecha	Compra unidades	Venta unidades	Costo unitario compras ¢	Costo total compras ¢
01/08/2007	1 250	1 021	75	93 750
09/08/2007	2 500	1 964	85	212 500
18/08/2007	1 785	1 830	87	155 295
27/08/2007	1 987	1 005	78	154 986
<b>Totales</b>	<b>7 522</b>	<b>5 820</b>		<b>616 531</b>

Al utilizar el método promedio ponderado para valuar los inventarios, ¿cuál es el valor del inventario final?

- A) ¢ 120 441, 00
- B) ¢ 121 754, 77
- C) ¢ 127 650, 00
- D) ¢ 139 502, 22

14) Considere la siguiente información sobre valores negociables:

El 01 de febrero 2009, una compañía adquiere una inversión con las siguientes características:

- Valor nominal: ¢ 6 000 000 (valor de adquisición y de venta).
- Fecha de emisión: 01/01/2008.
- Interés: 14% anual pagadero semestralmente 01 de julio y 01 de enero.
- Vencimiento: 31 de diciembre del 2012.

Al utilizar la información anterior, ¿cuál es el monto pagado por la compañía que adquirió la inversión, incluyendo intereses devengados?

- A) ¢ 6 000 000
- B) ¢ 6 070 000
- C) ¢ 6 140 000
- D) ¢ 6 210 000

15) Considere la siguiente información sobre valores negociables:

El 01 de marzo 2010, una compañía vende una inversión con las siguientes características:

- Valor nominal: ₡ 5 000 000 (precio de venta).
- Fecha de emisión: 01/01/2008
- Interés: 15% anual pagadero trimestralmente los 01 de abril, 01 de julio, 01 de octubre, 01 de enero.
- Vencimiento: 31 de diciembre 2012.

Al utilizar la información anterior, ¿cuál asiento de diario realiza la compañía que compra la inversión, incluyendo los intereses devengados?

A)	Bancos	₡ 5 125 000	
	Inversiones permanentes		₡ 5 000 000
	Ingreso por intereses		₡ 125 000
B)	Inversiones permanentes	₡ 5 125 000	
	Bancos		₡ 5 125 000
C)	Inversiones permanentes	₡ 5 000 000	
	Intereses acumulados por cobrar	₡ 125 000	
	Bancos		₡ 5 125 000
D)	Inversiones permanentes	₡ 5 000 000	
	Intereses acumulados por cobrar	₡ 750 000	
	Bancos		₡ 5 750 000

16) Lea la siguiente información sobre activos diferidos:

Una empresa adquirió una póliza de seguros del INS contra incendios por un monto de ₡ 900 000, que cubre un semestre del 1 de julio al 31 de diciembre del 2014. La empresa como política registra mensualmente el gasto proporcional.

Según la información anterior, ¿cuál es el monto del gasto por concepto de póliza de seguro contra incendio del mes de setiembre del 2014?

- A) ₡ 600 000
- B) ₡ 450 000
- C) ₡ 300 000
- D) ₡ 150 000



17) Considere la siguiente información sobre activos intangibles:

El 01 de julio de 2010 una compañía editora compra en ¢ 30 000 000 la exclusividad de un libro, se espera reproducir 500 000 ejemplares.

Al 30 de setiembre, fecha del cierre contable se han reproducido 400 000 ejemplares.

Según la información anterior ¿cuál es el saldo de la cuenta derechos de autor al 30 de setiembre de 2010, después de aplicar el asiento de ajuste?

- A) ¢ 30 000 000
- B) ¢ 24 000 000
- C) ¢ 6 000 000
- D) ¢ 600 000

18) A continuación, se presentan funciones acerca de las PYMES:

- I. Contribuyen con el crecimiento económico del país.
- II. Ayudan a democratizar la economía del país.
- III. Distribuyen riquezas entre los empleados.
- IV. Generan desempleo.
- V. Generan empleo.

¿Cuáles números representan funciones de las PYMES?

- A) I, II, III
- B) II, IV, V
- C) III, I, IV
- D) I, II, V

19) Lea la siguiente información sobre propiedad, planta y equipo:

El 01 de octubre de 2012, una empresa compra equipo de cómputo a crédito en ₡ 10 735 000, impuesto de ventas incluido.  
Tiene una vida útil de 5 años y un valor de desecho de ₡ 150 000.  
La empresa utiliza el método de línea recta para depreciar sus activos.  
El cierre contable se realiza el 30 de setiembre de cada año.  
Nota. En este caso el impuesto es parte del costo del activo.

¿Cuál es el monto del gasto por depreciación al 30 de setiembre de 2013?

- A) ₡ 176 416, 67
- B) ₡ 1 870 000, 00
- C) ₡ 1 900 000, 00
- D) ₡ 2 117 000, 00

20) Lea la siguiente información sobre propiedad, planta y equipo:

Una máquina para corte de pantalones tiene un costo de ₡ 1 200 000, su vida útil es de 7 años y el valor de rescate es del 10% de su costo. Se deprecia por el método de suma de dígitos. Se adquirió el 01 de octubre 2014

¿Cuál es el valor en libros del activo al 30 de setiembre del primer año, después de aplicar el asiento de ajuste?

- A) ₡930 000, 00
- B) ₡ 500 000, 00
- C) ₡ 270 000, 00
- D) ₡ 154 285, 71

21) Lea la siguiente información sobre pasivos diferidos:

El 01 de marzo de 2014, la empresa Impresiones Rápidas, S.A. fabricante de formularios continuos, recibe de una empresa la suma de ₡ 500 000, para la confección de 1 000 talonarios de facturas, con un costo unitario de ₡ 500. Dicho pedido debe ser entregado en un mes plazo.

De acuerdo con la información anterior, ¿cuál asiento contable registra la empresa Impresiones Rápida, S.A, al 01 de marzo de 2014?

- |                          |           |           |
|--------------------------|-----------|-----------|
| A) Bancos                | ₡ 50 000  | ₡ 50 000  |
| Anticipos a proveedores  |           |           |
| B) Anticipos de clientes | ₡ 500 000 | ₡ 500 000 |
| Bancos                   |           |           |
| C) Bancos                | ₡ 500 000 | ₡ 500 000 |
| Anticipos de clientes    |           |           |
| D) Bancos                | ₡ 500 000 | ₡ 500 000 |
| Anticipo de proveedores  |           |           |

22) Lea la siguiente información sobre patrimonio:

Es el capital máximo que puede emitir una sociedad, cuyo límite se establece en la escritura constitutiva.

¿A qué tipo de capital se refiere la información anterior?

- A) Autorizado
- B) Exhibido
- C) Suscrito
- D) Emitido

23) Considere la siguiente información sobre sociedad anónima:

El día 01 de octubre del 2014, se decretan y registran dividendos por ₡ 6 400 000, con la respectiva retención del 8% del impuesto sobre la renta.  
El día 01 de diciembre del 2015, se pagarán los dividendos.

De acuerdo con la información anterior, ¿cuál es el asiento contable para registrar los dividendos decretados?

- A) Cargo a dividendos decretados por ₡ 6 400 000, abono a dividendos por pagar por ₡ 5 888 000 e impuesto sobre la renta por pagar por ₡ 512 000.
- B) Cargo a dividendos por pagar por ₡ 5 888 000 e impuesto sobre la renta por pagar por ₡ 512 000, abono a dividendos decretados por ₡ 6 400 000.
- C) Cargo a bancos por ₡ 6 400 000 y abono a dividendos por pagar por ₡ 5 888 000 e impuesto sobre la renta por pagar por ₡ 512 000.
- D) Cargo a dividendos por pagar por ₡ 5 888 000 e impuesto sobre la renta por pagar por ₡ 512 000, abono a bancos por ₡ 6 400 000.

24) Considere la siguiente información de una asociación solidarista al 30 de mayo de 2012:

- Planilla mensual: ₡ 40 000 000
- El 80% de la planilla mensual corresponde a los empleados asociados.
- El ahorro del empleado es del 5% del salario mensual.
- El aporte del patrón por concepto de cesantía es del 5,33% de la planilla.

Según la información anterior, ¿cuánto es el monto del ahorro, correspondiente al mes de mayo, de los empleados afiliados a la asociación solidarista?

- A) ₡2 132 000
- B) ₡2 000 000
- C) ₡1 800 000
- D) ₡1 600 000

25) Considere la siguiente información de una asociación cooperativa:

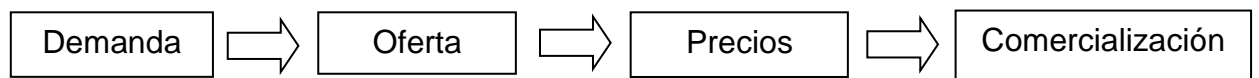
La Cooperativa Estudiantil del Sur R.L, obtuvo un excedente bruto en el periodo 2011-2012, por un monto de ₡ 15 000 000, antes de reservas y cuotas de ley, en asamblea general ordinaria los socios acordaron distribuir un 30% de dicho excedente.

Nota: Las reservas y cuotas de ley son por un 25, 5%, y el impuesto de renta 8% sobre los excedentes por distribuir.

De acuerdo con la información anterior, ¿cuál es el monto neto del excedente pagado a los asociados del periodo 2011-2012?

- A) ₡ 3 084 300
- B) ₡ 3 352 500
- C) ₡ 3 825 000
- D) ₡ 11 175 000

26) Considere las siguientes etapas relacionadas con la preparación y evaluación de proyectos:



Las anteriores etapas corresponden al proceso de estudio

- A) de mercado.
- B) administrativo.
- C) del marco legal.
- D) del impacto ambiental.

27) Lea la siguiente información sobre capital de trabajo:

La empresa la Monarca S. A, muestra una parte de la información financiera la 30 de setiembre de 2014:

Caja	₪ 325 500	Cuentas por pagar	₪ 275 325
Bancos	₪ 475 000	Intereses por pagar	₪ 825 500
Inventarios	₪ 625 000	Impuestos por pagar	₪ 100 175

De acuerdo con la información anterior, ¿cuál es el monto del capital de trabajo neto de la empresa Monarca S.A:

- A) ₪ 224 500
- B) ₪ 800 500
- C) ₪ 1 425 500
- D) ₪ 1 201 000

28) Considere las siguientes características sobre contratos de arrendamiento:

Para que un contrato de arrendamiento se pueda identificar como capital debe cumplir dos de las siguientes opciones:

- I. El término del contrato de arrendamiento es de 74% o menos de la vida económica estimada.
- II. El valor presente al inicio del término del contrato de arrendamiento, respecto a los pagos mínimos equivale o supera el 90% del valor justo de mercado.
- III. El valor presente al inicio del término del contrato de arrendamiento respecto a los pagos mínimos es inferior al 90% del valor justo de mercado.
- IV. Se transfiere la propiedad del bien arrendado al concluir el término del contrato.

¿Cuáles de las características anteriores son correctas, para que haya un arrendamiento de capital?

- A) I y II
- B) II y III
- C) II y IV
- D) III y IV

29) Considere la siguiente información sobre análisis financiero:

• Ingresos	₡4 000	• Cuentas por pagar	₡300
• Caja	₡150	• Gastos alquiler	₡1 600
• Gastos por salarios	₡250	• Capital inicial	₡2 250
• Cuentas por cobrar	₡450		

Con base en la información anterior, ¿cuál es el porcentaje de la rentabilidad sobre el capital?

- A) 0, 51
- B) 1, 22
- C) 1, 96
- D) 2, 17

30) Una empresa presenta la siguiente información:

• Inventarios:	₡ 326 000
• Ventas a crédito:	₡1 890 000
• Compras a crédito:	₡523 000
• Cuentas por cobrar:	₡786 000
• Activos circulantes:	₡1 725 000

¿Cuál es el índice de rotación de las cuentas por cobrar? (redondee a dos decimales).

- A) 1, 78
- B) 2, 19
- C) 2, 40
- D) 3, 06

- 31) En el proceso de legitimación de capitales, una de las obligaciones de las instituciones financieras es
- A) llevar al día los registros contables y el respaldo de las transacciones.
  - B) registrar o informar consignaciones cuantiosas de efectivo.
  - C) registrar los depósitos de cuentas corrientes diariamente.
  - D) adquirir activos dados en hipotecas y prendas.
- 32) Lea la siguiente información sobre sistemas de contabilidad:

A	10	ACTIVO
AC	10-01	ACTIVO CORRIENTE
AC	10-01-01	CAJA
AC	10-01-02	BANCO
AC	10-01-03	CUENTAS POR COBRAR
AC	10-01-03-01	Clientes
AC	10-01-03-02	Empleados
AC	10-01-03-02-_____?	Abarca Mora Lucia

¿Cuál código completa correctamente la cuenta de Abarca Mora Lucia, según el esquema de codificación utilizada en la información anterior?

- A) 04
  - B) 03
  - C) 02
  - D) 01
- 33) Lea la siguiente información:


Es la institución que en la mayoría de los países ejerce como autoridad monetaria, y como tal suele ser la encargada de la emisión del dinero legal y en general de diseñar y ejecutar la política monetaria del país al que pertenece.

Según la información anterior, ¿a cuál institución financiera se refiere?

- A) Banco Central
- B) Banco de Costa Rica
- C) Banco Crédito Agrícola de Cartago
- D) Banco Popular y de Desarrollo Comunal



34) Observe la siguiente imagen:



¿Cuál tipo de conexión hace referencia la imagen anterior?

- A) Microondas
- B) Bluetooth
- C) Infrarojo
- D) Wi Fi

35) Considere la información acerca de salud ocupacional:

Enfermedad relacionada indirectamente con la profesión u oficio y su causa puede encontrarse en cualquier lugar del ambiente de trabajo.

¿A cuál concepto de salud ocupacional se refiere la información anterior?

- A) Envejecimiento prematuro
- B) Enfermedad ocupacional
- C) Enfermedad profesional
- D) Fatiga laboral

36) Considere la siguiente información sobre administración:

- Lo que se prevé debe ser realizable.
- Debe contribuir positivamente a asegurar los objetivos empresariales.
- Consiste en descripciones, esquemas o bocetos detallados de lo que habrá de hacerse y las especificaciones necesarias para realizarlo.

¿A cuál etapa del proceso administrativo hace referencia la información anterior?

- A) Control
- B) Dirección
- C) Planeación
- D) Organización

37) Lea la siguiente información sobre teorías para administrar organizaciones:

Los gerentes ejecutan procesos a través de las personas. Como el tiempo y los conocimientos de los gerentes tienen límites, los que son eficaces tienen que saber delegar. Dicha delegación es la concesión de responsabilidad a otra persona para que ejecute ciertas funciones dentro de la empresa. Otorgando poder a los empleados para que tomen decisiones propias.

De acuerdo con la información anterior, ¿a cuál aspecto de las organizaciones modernas se refiere?

- A) Línea staff
- B) Empowerment
- C) Trabajo en equipo
- D) Pensamiento sistemático

38) Considere los siguientes enunciados relacionados con mercadeo:

- I. Promover el artículo o servicio que se está vendiendo.
- II. Determinar el precio para obtener ganancias.
- III. Encontrar la mejor forma de distribuir el producto.
- IV. Crear formas de persuadir a los clientes para que compren el producto.

Según los enunciados anteriores, ¿cuáles números corresponden a las variables de la mezcla de mercado plaza y promoción?

- A) I y II
- B) I y IV
- C) II y III
- D) III y IV

39) Considere la siguiente información sobre diagramas en cultura de la calidad:

- Una de las herramientas para el mejoramiento continuo utiliza los siguientes símbolos:
- Óvalos: se utilizan para representar el inicio y el final de un proceso.
  - Rectángulos: representan los pasos del proceso.
  - Rombos: Indican puntos de decisión.
  - Círculos: se utilizan para conectar porciones del diagrama.

¿A cuál diagrama se refiere la información anterior?

- A) Flujo
- B) Pareto
- C) Control
- D) Causa y efecto

40) Lea las siguientes recomendaciones referentes a etiqueta:

- I. No empiece a comer hasta que su anfitrión lo haga o hasta que le indique que lo haga.
- II. Cuelgue la servilleta en el cuello de la camisa.
- III. Use los palillos de dientes para desalojar comida.
- IV. Evite llenar la boca tanto que resulte difícil masticar o tragar.
- V. Parta el pan y los bollos con el cuchillo.
- VI. Nunca sople la comida caliente o la bebida.

De acuerdo con la información anterior, ¿cuáles recomendaciones son correctas?

- A) I - IV - VI
- B) I - II - III
- C) III - V - II
- D) IV - V - VI

41) Lea la siguiente información sobre ética:

Es una conducta de los seres vivos, en este caso nos referimos a los seres humanos los cuales tienen una tendencia a ayudar a los demás, algunas veces arriesgando sus intereses y necesidades propias.

¿A cuál concepto de la ética se refiere la información anterior?

- A) Conocimiento
- B) Imperialismo
- C) Utilitarismos
- D) Altruista

42) Lea la siguiente información sobre matemáticas:

Una empresa adquiere un préstamo por ₡5 000 000 con las siguientes características:

- Plazo: 30 meses
- Cuota mensual: ₡ 200 892,72
- Interés: 15% anual sobre saldos

De acuerdo con la información anterior, ¿cuál es el monto por amortización de la deuda en la primera cuota?

- A) ₡ 60 770, 09
- B) ₡ 62 500, 00
- C) ₡ 138 392, 72
- D) ₡ 200 892, 72

43) Lea la siguiente información sobre interés simple:

Monto a invertir ₡ 3 550 000  
Tiempo: 30 meses  
Interés simple ordinario anual: 12%

De acuerdo con la información anterior, ¿cuál es el importe de interés simple que genera el monto invertido?

- A) ₡ 3 500 000
- B) ₡ 1 279 000
- C) ₡ 1 065 000
- D) ₡ 42 600

44) Considere la siguiente información sobre interés compuesto:

- Capital inicial : ¢3 425 000
- Tiempo: 24 meses
- Interés: 12% anual, capitalizable semestralmente

De acuerdo con la información anterior, ¿cuál es el monto final, inversión más intereses (utilice año comercial y redondee a dos decimales)?

- A) ¢822 000, 00
- B) ¢898 983, 59
- C) ¢4 247 000, 00
- D) ¢ 4 323 983, 59

45) Considere la siguiente información sobre documentos comerciales de la columna A, y definiciones columna B:

A. Documentos	B. Definiciones
I. Factura	m. Documento legal y contable emitido a raíz de un contrato de compra y venta.
II. Recibo	n. Documento empleado con el propósito de adelantar sumas de dinero a sus funcionarios.
III. Vale	o. Documento que se entrega a cambio de cierta cantidad de dinero recibido en pago de una obligación.

¿Cuál es la relación correcta entre ambas columnas?

- A) I. m - II. o - III. n
- B) I. o - II. m - III. n
- C) I. m - II. n - III. o
- D) I. n - II. m - III. o

46) Considere la siguiente información sobre títulos valores:

Documento por el cual una persona física o jurídica impone un gravamen real sobre un bien inmueble, con el objeto de garantizar una obligación propia o ajena.

La información anterior hace referencia al título valor denominado

- A) hipoteca.
- B) prenda.
- C) factura.
- D) pagaré.

47) Lea la siguiente información sobre microeconomía:

Es una cuenta que registra todas las transacciones monetarias entre un país y el resto del mundo, las mismas pueden incluir exportaciones e importaciones del país de bienes, servicios, capital financiero y transferencias financieras

Según la información anterior, ¿a cuál concepto se hace referencia?

- A) Balanza de pagos
- B) Exportaciones
- C) Importaciones
- D) Economía

48) Lea el siguiente texto sobre la Ley de igualdad real de la mujer:

Implica que los hombres y las mujeres deben recibir los mismos beneficios, recibir las mismas sentencias y ser tratados con el mismo respeto.

De acuerdo al texto anterior, ¿a cuál término se hace referencia?

- A) Protección del derecho de la mujer
- B) Hostigamiento sexual
- C) Igualdad de género
- D) Acoso laboral

49) Considere las siguientes características de una entidad:

- Existe bajo una denominación social
- Capital representado por acciones al portador a nominativas
- Responsabilidad de las accionistas es limitada al monto de valor nominal de las acciones.

Las características anteriores corresponden a un tipo de ente mercantil denominado

- A) empresa individual de responsabilidad limitada.
- B) sociedad de responsabilidad limitada.
- C) sociedad en comandita simple.
- D) sociedad anónima

50) Lea la siguiente información relacionada con la legislación aduanera:

Es aquella modalidad de embalaje donde se unen uno u más artículos.

La información anterior, está relacionada con exportaciones e importaciones denominadas

- A) bultos.
- B) atados.
- C) paletas.
- D) almacenaje



51) Considere la siguiente información sobre legislación laboral:

Un señor trabaja como inspector de calidad en una empresa que fabrica zapatos. Su jornada de trabajo se inicia a la 6 a.m. y finaliza a las 2 p.m. de lunes a sábado. No labora horas extras.

¿A cuál tipo de jornada se refiere, la información anterior?

- A) Nocturna normal
- B) Extraordinaria
- C) Diurna normal
- D) Mixta normal

52) Lea la siguiente información relacionada con legislación laboral:

El señor Mario Garro Mora empezó a laborar desde el 01 de enero de 2006 en la empresa Lomas del Sur S.A, como operaria de planta, pero por motivos de reorganización fue despedida el 02 de febrero de 2013. Devengando un salario bruto en el último semestre de ₡ 300 000 por mes.

De acuerdo con la información anterior, ¿cuánto le corresponde al Sr. Garro por concepto de cesantía?

- A) ₡220 000
- B) ₡860 000
- C) ₡2 100 000
- D) ₡1 540 000

53) Analice el siguiente caso sobre beneficios laborales:

Rosa laboró para la empresa El Amigo Secreto desde el 2 de enero de 1997 hasta el 1 de julio del 2000, fecha en que fue despedida por reestructuración de personal. El salario mensual de los últimos 10 meses fue de ¢ 200 000.  
La política de la empresa es no acumular vacaciones, por lo que todo empleado las disfruta.

¿De acuerdo con el caso anterior, ¿cuánto dinero le corresponde a Rosa por concepto de vacaciones?

- A) ¢ 45 666, 66
- B) ¢ 40 000, 00
- C) ¢ 79 999, 99
- D) ¢ 100 000, 00

54) Considere la siguiente información relacionada con contabilidad tributaria:

La empresa El Vendedor más grande, S. A, va a realizar el pago parcial del impuesto sobre la renta para el período 2011.  
Para el cálculo del pago parcial presenta la siguiente información:

Año	Monto ¢
2008	3 950 500
2009	3 798 600
2010	3 590 200

¿Cuál es el monto correspondiente al pago parcial trimestral para el 2011? (redondee a dos decimales).

- A) ¢ 646 650, 00
- B) ¢ 812 625, 00
- C) ¢ 827 550, 00
- D) ¢ 944 941, 67

55) Considere la siguiente información relacionada con contabilidad tributaria:

Una trabajadora labora como gerente de marca en una compañía que distribuye productos de construcción. Tiene un ingreso bruto mensual de ₡1 450 000, es soltera y no tiene hijos.

Tabla de cálculo impuesto de renta

Hasta ₡ 651 000	exento
Sobre el exceso de ₡ 651 000 hasta ₡ 977 000	10%
Sobre el exceso de ₡ 977 000	15%

¿Cuánto debe pagar la trabajadora por concepto de impuesto sobre la renta?

- A) ₡65 100
- B) ₡103 550
- C) ₡145 000
- D) ₡217 500

56) Considere la siguiente información sobre contabilidad tributaria:

- Es el acto que se da en la venta de mercancías, en el momento de la facturación o entrega de ellas, en el acto que se realice primero.
- En la prestación de servicio, en el momento de la facturación.

Según la información anterior, ¿a cuál término hacer referencia?

- A) Exención
- B) Sujeto activo
- C) Sujeto pasivo
- D) Hecho generador

57) Considere siguiente información sobre documentación de control contable inventarios:

- |   |
|---|
| <ul style="list-style-type: none"><li>➤ Unidad de medida</li><li>➤ Cantidad de material</li><li>➤ Descripción del artículo</li><li>➤ Departamento al que se cargará</li></ul> |
|---|

¿A cuál documento se refiere las características anteriores?

- A) Hoja de costo
- B) Boleta de trabajo
- C) Tarjeta de tiempo
- D) Requisición de materiales

58) Considere la siguiente información sobre costos de una empresa:

• Material directo	₡ 924 000
• Costo de ventas	₡ 525 000
• Mano de obra directa	₡ 175 000
• Costos indirectos de fabricación	₡ 65 000

De acuerdo con los elementos del costo, ¿cuál es el costo total del producto?

- A) ₡ 924 000
- B) ₡ 1 099 000
- C) ₡ 1 164 000
- D) ₡ 1 689 000

- 59) Una empresa de camisas presenta la siguiente información de la producción del mes de octubre 2011:

Detalle	Cantidad ¢
Materiales directos	1 575 475
Mano de obra directa	1 175 428
Costos indirectos de fabricación	961 375
Unidades producidas	95 500
Unidades vendidas	52 325

De acuerdo a la información anterior, ¿cuál es el costo unitario?

- A) ¢ 28, 81
- B) ¢ 32, 45
- C) ¢ 37, 31
- D) ¢ 38, 87

- 60) Considere la siguiente información sobre costos:

Una empresa estima costos indirectos de fabricación por ¢ 1 955 000, los datos reportados al finalizar la operación indican que los costos indirectos de fabricación reales fueron ¢ 1 855 200, mano de obra ¢ 1 725 600 y materiales ¢1 425 700.

De acuerdo con la información anterior, el departamento de costos determina una variación en costos indirectos de fabricación con el comportamiento de

- A) Subaplicación ¢ 229 400
- B) Sobreaplicación ¢ 229 400
- C) Sobreaplicación ¢ 99 800
- D) Subaplicación ¢ 99 800

61) Considere la siguiente información sobre costos:

La compañía de muebles El Proceso, S.A, utiliza el sistema de costos por órdenes de producción.

La orden # 101 corresponde a la fabricación de 40 mesas y presenta la siguiente información:

- Materia prima                    ¢25 000 por unidad
- Mano de obra                   ¢2 000 por hora y ocupa 4 horas por mesa
- Costos indirectos de fabricación 80% de mano de obra directa.

¿Cuál es el costo acumulado en las cuentas de productos en proceso?

- A)   ¢39 400
- B)   ¢320 000
- C)   ¢1 320 500
- D)   ¢1 576 000

62) Considere los siguientes datos sobre costos:

- Horas reales trabajadas.....51 210
- Tarifa salarial estándar por hora de mano de obra..... ¢318
- Cantidad estándar de mano de obra por unidad.....2,75
- Producción equivalente en unidades.....18 200
- Tarifa salarial real por hora de mano de obra..... ¢325

De acuerdo a los datos anteriores, ¿cuál es la variación en precio de mano de obra directa, respectivamente?

- A)   ¢ 368 880 favorable
- B)   ¢ 358 470 desfavorable
- C)   ¢ 368 880 desfavorable
- D)   ¢ 358 470 favorable

63) Considere la siguiente información sobre cálculo de mercaderías importadas.

Una compañía importa maquinaria con un valor total de \$ 32 500 valor FOB, pagando \$ 3 250 de seguro y \$ 4 500 de flete. Se le aplica los siguientes impuestos:

- Derecho aduanero a la importación 14%
- Ley de emergencia 1%
- Impuesto de ventas 13%
- Impuesto selectivo de consumo 25%
- Tipo de cambio: ₴ 535

¿Cuál es el monto del derecho aduanero a las importaciones (DAI)?

- A) ₴ 2 434 250,00
- B) ₴ 3 014 725, 00
- C) ₴ 3 044 872, 25
- D) ₴ 3 244 978, 75

64) Lea la siguiente información relacionada con controles administrativos en el manejo de los inventarios:

- Comprende la agrupación de mercadería de acuerdo con ciertas características comunes (físicas y químicas).
- Responde a la regla básica que sirve para definir los materiales que deben ser usados por la empresa.
- Proporciona a dar al almacén un sentido de orden.

De acuerdo a la información anterior ¿a cuál control administrativo de mercaderías hace referencia la información anterior?

- A) Catálogo
- B) Ubicación
- C) Recepción
- D) Clasificación

65) Considere la siguiente información sobre auditoría:

Auditoría llevada por una persona independiente o firma de contadores públicos.  
El auditor no es un empleado de la empresa o cliente.

¿A cuál tipo de auditoría se refiere la información anterior?

- A) Fiscal
- B) Interna
- C) Externa
- D) Gubernamental

66) Lea la siguiente información sobre NIA 400 evaluación de riesgos y control interno:

Riesgo de que el auditor dé una opinión de auditoría inapropiada cuando los estados financieros están elaborados en forma errónea de una manera importante.

De acuerdo con la información anterior, ¿a cuál riesgo de auditoría se refiere?

- A) Control
- B) Auditoría
- C) Inherente
- D) Detección

67) Considere la siguiente información sobre control interno:

Es el riesgo de que los procedimientos sustantivos de una auditoría no detecten una representación errónea que existe en un saldo de una cuenta o clase de transacción que podría ser de importancia relativa, individualmente o cuando se agrega con representaciones erróneas en otros saldos o clases.

La información anterior, hace referencia al tipo de riesgo denominado

- A) control.
- B) auditoria.
- C) inherente.
- D) detección.



68) Lea las siguientes premisas sobre control interno:

- I. Haga que sean preparadas conciliaciones bancarias mensuales por empleados que no son responsables de la emisión de cheques.
- II. Depósito íntegro e inmediato de la cobranza.
- III. Proyecte entradas y desembolsos de efectivo esperados e investigue las variaciones de la suma proyectada.
- IV. El monto del fondo de caja chica debe de ser un importe fijo, así facilitara su control.
- V. Se debe hacer un conteo físico de los artículos para la venta

¿Cuáles de ellas son premisas de control interno del efectivo?

- A) I, IV, y V
- B) I, III, y IV
- C) II, III, y V
- D) I, II, y III

69) Lea la siguiente información sobre presupuesto:

La compañía BB S.A, presenta la siguiente información para el mes de marzo:

- Unidades de producción requeridas .....4 500
- Horas de mano de obra directa .....3 por unidad
- Tasa por hora. .... ¢ 2 500

¿Cuál es el presupuesto de mano de obra directa para el mes de marzo?

- A) ¢ 113 500
- B) ¢ 11 250 000
- C) ¢ 33 750 000
- D) ¢ 44 125 000

70) Lea el siguiente caso relacionado con conceptos estadísticos:

El ingeniero jefe de una fábrica desea verificar la calidad de una partida de mesas producidas el día anterior. Para hacerlo toma una muestra de 50 mesas para determinar para cada una, su acabado y resistencia.

En el recuadro anterior la unidad de estudio la constituye

- A) la mesa.
- B) el acabado.
- C) la resistencia.
- D) el estado de la mesa.

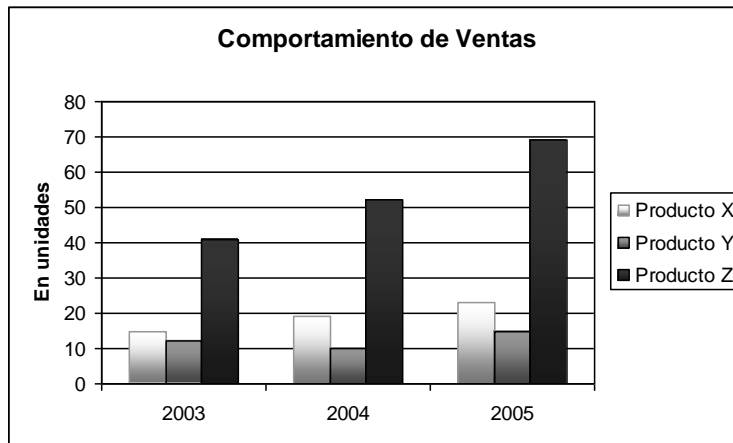
71) Considere la información estadística:

150 – 105 – 85 – 65 – 100 – 105 – 82 – 85 – 105 – 90

Al utilizar la información anterior, ¿cuál número corresponde a la moda?

- A) 105
- B) 100
- C) 85
- D) 82

72) Considere la siguiente forma de presentación de datos en estadística:



¿Cómo se denomina el gráfico anterior?

- A) Histograma
- B) Barras 100%
- C) Barras comparativas
- D) Polígono de frecuencias

Read the text

### BOSTON CONSULTING GROUP

BCG is an international consulting firm working with clients to create solutions to their problems. One of the most important advantages of working for BCG is the salary employees receive because the average employee earns about \$139,000 every year. Besides the fixed wage, bonuses and overtime pay are not included in the average salary. This means employees will have chances to make their salary even better. For BCG, a quality life style does not only include being wealthy, it also likes to keep its staff fit and healthy so it organizes lots of sports and activities. Another benefit is that employees can do voluntary work for charities, participating in activities such as save the Children; once a year.

*Adapted from SGI, April 10<sup>th</sup> <http://www.stgeorges.co.uk/blog>*

73) What is the main benefit of working for BCG?

- A) Good salaries increased by different pluses.
- B) Employees participate in sports activities.
- C) Employees earn \$139,000 a year.
- D) There is voluntary work.

Read the following text.

### LONG WORKING HOURS

Working long hours means workers may have more injuries and illnesses. This is the conclusion of a new study in the journal *Occupational and Environmental Medicine*. The team discovered that more than half of the injuries were in jobs that required overtime or had demanding schedules.

The research team found that a major cause for accidents was fatigue and stress created by overworking. They said this was the same for hazardous jobs and boring ones. They also said that commuting time did not affect the risk of injury.

*Adapted from: <http://www.breakingnewsenglish.com/0508/050819-overtime-e.html>*

74) According to the previous information \_\_\_\_\_

- A) Working long hours is healthy.
- B) commuting time represents a risk of injury.
- C) tiredness and tension cause most of the injuries.
- D) workers feel relieved by having demanding schedules

Read the following information.

Mr. Evans is asking about some details to his receptionist	
Receptionist:	Mr. Evans, I already have all the details for your upcoming meeting at HSBC Bank Australia in Sydney.
Mr. Evans:	Great, I know it will be a long journey, please tell me.
Receptionist:	You are traveling business class, flight A247 SJO to SYD. With a layover of 20 hours in Los Angeles, California. You will have accommodation at Hyatt Regency LA, it includes a set of amenities for your convenience.
Mr. Evan	It sounds astounding.
Receptionist:	You will be leaving on October 3rd, at 4:50a.m. and you will be arriving in Sydney on October 5th at 3:30p.m.
Receptionist:	You will be leaving on October 3rd, at 4:50a.m. and you will be arriving in Sydney on October 5th at 3:30p.m.
Mr. Evans:	Could you please arrange transportation from SYD airport to the hotel?
Receptionist:	It goes on HSBC Bank; they will be taking care of you the moment you get to Sydney.

75) What is the main idea of the conversation?

- A) The upcoming meeting at HSBC Bank Australia.
- B) The amenities Hyatt Regency Hotel offers.
- C) The welcoming HSBC will give Mr. Evans.
- D) The itinerary for Mr. Evans business trip.

**ANEXO 1**  
**FÓRMULAS PARA LAS PRUEBAS DE CONTABILIDAD**

<b><u>Fórmulas estadísticas</u></b>	<b><u>Fórmulas matemáticas financiera</u></b>
<p>Moda (Mo): <math>L_i + \frac{d_1}{d_1+d_2} * c</math></p> <p>Mediana (Me): <math>L_i + \frac{\frac{n}{2} - F_a}{f_i} * c</math></p> <p>Media aritmética (<math>\bar{x}</math>): <math>\frac{\sum x_i f_i}{n}</math></p>	<p><math>C = \frac{I}{t * i} \quad i = \frac{I}{C * t} \quad I = C * i * t \quad t = \frac{I}{C * i}</math></p> <p><math>S = C (1 + i)^n</math></p>
<b>RAZONES FINANCIERAS</b>	
<p>Razón circulante: <math>\frac{\text{Activo circulante}}{\text{Pasivo circulante}}</math></p> <p>Prueba del ácido:</p> <p style="text-align: center;"><math>\frac{\text{Activo circulante} - \text{inventarios}}{\text{Pasivo circulante}}</math></p> <p>Rentabilidad sobre el Capital:</p> <p style="text-align: center;"><math>\frac{\text{Utilidad Neta}}{\text{Capital/Patrimonio}}</math></p>	<p>Rotación del activo circulante: <math>\frac{\text{Ventas netas totales}}{\text{Activo circulante}}</math></p> <p>Rotación de activo fijo: <math>\frac{\text{Ventas netas totales}}{\text{Activo fijo neto}}</math></p> <p>Rotación de activo total: <math>\frac{\text{Ventas netas totales}}{\text{Activo total}}</math></p> <p>Rotación cuentas por Cobrar:</p> <p style="text-align: center;"><math>\frac{\text{Ventas a Crédito}}{\text{Cuentas por Cobrar}}</math></p>
<p><b><u>Costo de no aprovechar el descuento por pronto pago</u></b></p> <p style="text-align: center;"><math>\frac{\text{DPP}}{100\% - \text{DPP}} * \frac{360}{n}</math></p> <p><b><u>Punto de equilibrio</u></b></p> <p>Punto de equilibrio unidades: <math>\frac{CF}{PV-CV}</math></p> <p>Punto de equilibrio colones:</p> <p style="text-align: center;"><math>\frac{CF}{\text{Coeficiente de margen de contribución}}</math></p>	<p><b><u>Punto de equilibrio</u></b></p> <p>Punto de equilibrio financiero: <math>I + \frac{DP}{1-T}</math></p> <p>Punto de equilibrio operativo: <math>Q = \frac{CF}{P-CV}</math></p> <p>DP: Dividendos acciones preferentes T: tasa de interés anual I: Pago de intereses CF: costos fijos CV: costo variable P: Precio venta</p>

# SOLUCIONARIO

## CONTABILIDAD

---

ITEM	CLAVE	ITEM	CLAVE	ITEM	CLAVE	ITEM	CLAVE
1.	B	21.	C	41.	D	61.	D
2.	A	22.	A	42.	C	62.	D
3.	A	23.	A	43.	C	63.	B
4.	C	24.	D	44.	D	64.	D
5.	C	25.	A	45.	A	65.	C
6.	B	26.	A	46.	A	66.	B
7.	B	27.	A	47.	A	67.	D
8.	B	28.	C	48.	C	68.	D
9.	A	29.	A	49.	D	69.	C
10.	D	30.	C	50.	B	70.	A
11.	D	31.	B	51.	C	71.	A
12.	A	32.	D	52.	D	72.	C
13.	D	33.	A	53.	B	73.	A
14.	B	34.	B	54.	D	74.	C
15.	C	35.	B	55.	B	75.	D
16.	D	36.	C	56.	D		
17.	C	37.	B	57.	D		
18.	D	38.	D	58.	C		
19.	D	39.	A	59.	D		
20.	A	40.	A	60.	C		