

# CONTABILIDAD Y AUDITORIA

## SELECCIÓN ÚNICA

- 1) Considere la siguiente información sobre normas de calidad ISO:

Es lo que la organización hace para mejorar la satisfacción del cliente mediante el cumplimiento de requisitos de calidad en los productos y servicios, además de las regulaciones aplicables y para mejorar continuamente su desempeño en este aspecto.

¿A cuál norma de calidad ISO hace referencia la información anterior?

- A) 5 000
- B) 9 001
- C) 14 000
- D) 22 000

- 2) Lea la siguiente información sobre Pymes:

La Caja Costarricense del Seguro Social en Costa Rica considera pymes a de 2015, representaban el 97,8% de las empresas, la mayoría de estas se encuentran en el sector del comercio y de los servicios.

De acuerdo a la clasificación que realiza la Caja Costarricense del Seguro Social en Costa Rica sobre las Pymes, ¿cómo se denomina el tipo de empresa que posee la cantidad de entre 6 a 30 empleados en nuestro país?

- A) Microempresa
- B) Empresa grande
- C) Mediana empresa
- D) Pequeña empresa

3) Lea la siguiente información sobre las normas internacionales de información financiera:

El marco conceptual de las normas internacionales de información financiera establece que una realidad fundamental acerca de la elaboración de estados financieros, es la que supone que la entidad está en funcionamiento, y continuará sus actividades dentro del futuro previsible.

La verdad fundamental que hace referencia a la información anterior se denomina

- A) base de acumulación (o devengo).
- B) negocio en marcha.
- C) unidad de medida.
- D) valor histórico.

4) Considere la siguiente información sobre tipos de empresa:

- I. Tienen como objetivo la prestación de alguna actividad intangible.
- II. Se dedican a la compra de bienes o mercancías para su posterior venta.
- III. Se dedican a la compra de materia prima para que mediante la utilización de la mano de obra y tecnología se transformen en un producto terminado.
- IV. Se debe calcular en este negocio el costo de ventas

De acuerdo con la información anterior, ¿cuáles números representan a una empresa de tipo comercial?

- A) I y II
- B) II y III
- C) III y IV
- D) II y IV

5) Lea la siguiente información sobre empresas comerciales:

Detalle cuentas	Monto ¢
Descuento sobre compras	125 350
Descuento sobre ventas	90 600
Gastos por alimentación	50 500
Compras de mercaderías	2 000 000
Fletes sobre compras	100 000
Inventario inicial	525 000
Inventario final	650 000
Ventas	2 975 000

De acuerdo con la información anterior, ¿cuál es el costo de la mercadería vendida?

- A) ¢ 2 499 650
- B) ¢ 1 849 700
- C) ¢ 1 849 650
- D) ¢ 1 975 000

6) Lea la siguiente información sobre contabilidad:

Detalle cuentas	Monto ¢
Caja	2 250 000
Ventas	8 200 000
Bancos	4 850 000
Edificios	7 000 000
Vehículos	2 000 000
Inventarios	1 500 000
Capital social	9 000 000
Cuentas por pagar	1 820 000
Hipotecas por pagar	5 000 000
Gastos por publicidad	200 000
Compras de mercadería	5 500 000
Gastos diferidos por seguros	1 200 000
Depreciación acumulada edificios	280 000
Depreciación acumulada vehículos	200 000

De acuerdo a la información anterior, ¿cuál es el monto de las sumas iguales del balance de comprobación por saldos?

- A) ¢ 49 000 000
- B) ¢ 24 500 000
- C) ¢ 24 020 000
- D) ¢ 17 600 000

7) Lea la siguiente información sobre ciclos contables empresas de servicios:

La empresa Servicios Múltiples S.A., muestra parte de la información para el cierre de periodo fiscal 2012 ( en colones C.R.)			
Gastos por publicidad	225 000	Otros ingresos	675 000
Ingresos por servicios de mensajería	2 550 000	Gastos por electricidad	100 000
Gastos por papelería y útiles oficina	125 200	Vehículos	4 000 000
Gastos por viáticos	95 000	Cuentas por cobrar	1 200 000
Inventarios	325 000	Documentos por pagar	1 500 000

De acuerdo con la información anterior, ¿cuánto suman las cuentas nominales con saldo acreedor?

- A) ₡4 725 000
- B) ₡3 225 000
- C) ₡1 620 000
- D) ₡325 000

8) Lea la siguiente definición relacionada con sistemas contables:

Es un sistema de códigos empleados por las empresas que utiliza números, divididos por puntos, de manera que se haga más fácil la interpretación de los códigos para las cuentas.

¿Cuál es el método de codificación descrito en la información anterior?

- A) Decimal
- B) Numeral
- C) Alfabético
- D) Alfanumérico

9) Lea el siguiente texto sobre Legitimación de Capitales:

“Pago ilegal a un funcionario público para obtener un beneficio al que, en ausencia de soborno, se podría tener o no tener derecho, según el caso.”  
*Susan Rose-Ackerman.*

¿Cuál concepto está presente en el texto anterior sobre Legitimación de Capitales?

- A) Política
- B) Salarios
- C) Corrupción
- D) Presupuesto

10) Lea la siguiente información:

Estos son los saldos de las cuentas de situación al 30 de setiembre de 2010 de una compañía (montos en colones).

Bancos	5 300 000	Capital social	9 500 000
Vehículos	1 500 000	Impuesto por pagar	1 325 000
Cuentas por cobrar	450 000	Inversiones L.P	500 000
Cuentas por pagar	1 725 000	Edificios	1 000 000
Terrenos	2 000 000	Inversiones C.P	950 000
Inventarios	1 500 000	Mobiliario y equipo	850 000
		Utilidades acumuladas	1 500 000

De acuerdo con la información anterior, ¿cuál el resultado de la razón de liquidez rápida (prueba de ácido), redondear a dos decimales?

- A) 1, 70
- B) 1, 88
- C) 2, 20
- D) 2, 45

11) Considere la siguiente información sobre Legitimación de Capitales:

Muestran los comportamientos particulares de los clientes y las situaciones atípicas que presentan las operaciones y que pueden encubrir operaciones de lavado de activos en las entidades financieras.

De acuerdo con la información anterior, ¿a cuál concepto se hace referencia?

- A) Colocación
- B) Estratificación
- C) Señales de alerta
- D) Competencia desleal

12) A continuación, se presenta un segmento de un balance general:

Activos Fijos	2010 ¢	2009 ¢
Vehículo	25 664 000	20 200 000
Depreciación acumulada vehículo	(4 619 520)	(4 848 000)
Edificio	51 087 140	25 400 000
Depreciación acumulada edificio	(10 922 500)	(4 318 000)
<b>Total activo fijo neto</b>	<b>61 209 120</b>	<b>36 434 000</b>

Al realizar un análisis horizontal, la razón del activo fijo del año 2010 con relación al 2009 corresponde al

- A) 75%
- B) 68%
- C) 59, 52%
- D) 1, 68%

13) Lea la siguiente información sobre flujo de efectivo:

Cuenta	Julio	Agosto	Setiembre
Ventas al contado ¢	800 000	1 000 000	1 200 000
Ventas al crédito ¢	1 000 000	1 300 000	1 500 000
De las ventas al crédito se recuperan en el mismo mes el 30%, y el resto en el mes siguiente.			

De acuerdo con la información anterior, ¿cuál es el monto del flujo de efectivo para el mes de agosto?

- A) ¢ 2 700 000
- B) ¢ 2 300 000
- C) ¢ 2 090 000
- D) ¢ 1 800 000

14) Lea la siguiente información sobre flujo de efectivo:

Detalle de cuentas	Enero	Febrero	Marzo
Ventas de contado	¢ 5 250 000	¢ 6 500 000	¢ 8 200 000
Ventas de crédito	¢ 2 750 000	¢ 4 300 000	¢ 6 300 000
De las ventas al crédito se recupera el 20% en el mismo mes, en el mes siguiente el 50%, y el resto en el tercer mes (marzo).			

De acuerdo con la información anterior, ¿cuál es el monto en efectivo recuperado en el mes de febrero?

- A) ¢ 6 500 000
- B) ¢ 7 360 000
- C) ¢ 8 735 000
- D) ¢ 10 800 000

15) Lea la siguiente información relacionada con las cooperativas:

Una cooperativa de taxistas cerró al 30 de setiembre de 2013, con un excedente bruto de ₡ 60 125 200, al que se le deben aplicar las reservas de ley a saber:

- Conacoop 2 %
- Cenecoop 2, 5 %
- Reserva legal 10%
- Reserva de educación 5%
- Reserva de bienestar social 6 %

¿Cuál es el monto del excedente por distribuir o capitalizar después de reservas y cuotas, según la información anterior?

- A) ₡ 60 125 200
- B) ₡ 44 793 274
- C) ₡ 15 331 926
- D) ₡ 6 012 520

16) Considere la siguiente información sobre asociaciones solidaristas:

La compañía Reta S.A, posee una asociación solidarista compuesta por 18 colaboradores. El reporte que hace la compañía a la Caja Costarricense del Seguro Social es de ₡ 20 000 000 mensuales en salarios brutos por los 18 colaboradores mencionados, cuota empleados 3%, cuota patronal 5%

De acuerdo con la información anterior, ¿cuál sería el ahorro mensual de los empleados afiliados y la contraparte patronal, respectivamente de los 18 colaboradores?

- A) ₡ 600 000 y ₡ 1 000 000
- B) ₡ 600 000 y ₡ 500 000
- C) ₡ 60 000 y ₡ 100 000
- D) ₡ 60 000 y ₡ 500 000



17) Lea el siguiente enunciado:

Es la persona jurídica encargada de facilitar la negociación de títulos valores, al crear una plataforma de regulaciones y del sistema de negociación propicio para llevar a cabo la intermediación bursátil

¿Cuál concepto se deduce del enunciado anterior?

- A) Mercado de bienes intangibles
- B) Bolsa Nacional de Valores
- C) Mercado financiero
- D) Mercado bancario

18) Asocie las siguientes columnas sobre documentación comercial, columna A personas que intervienen en un pagaré y columna B Conceptos:

A. Personas que intervienen en un pagaré	B: Conceptos
I. Fiador II. Deudor III. Acreedor	s. A favor de quien está el documento. t. Responsable del documento, el cual debe pagarlo. u. Persona que adquiere voluntariamente el compromiso de pagar el documento en caso del no cumplimiento de la deuda.

¿Cuál es la relación correcta entre la columna A y la columna B?

- A) I s – II t – III u
- B) I t – II s – III u
- C) I u – II t – III s
- D) I t – II u – III s

19) Lea la siguiente información sobre documentación comercial:

Juan Pérez Coronado pidió un préstamo de ₡10 000 000, y dio como respaldo a la deuda su casa.

De acuerdo con la información anterior, ¿a cuál tipo de garantía se refiere?

- A) Hipotecaria
- B) Fiduciaria
- C) Prendaria
- D) Tributaria

20) Lea la siguiente información sobre inventarios:

Una empresa realiza una compra de mercadería para luego ser revendidas por la suma de ₡ 15 000 000, con el impuesto de ventas del 13 % incluido, en condiciones de 5/8, 2/15, 0/30. La empresa utiliza el sistema permanente para registrar sus compras de mercaderías.

De acuerdo a la información anterior, ¿cuál es el asiento de registro en colones?

A)	Compra de mercaderías	15 000 000	
	Impuesto de ventas	1 950 000	
	Caja		16 950 000
B)	Inventario de mercaderías	15 000 000	
	Impuesto de ventas	1 950 000	
	Cuentas por pagar		16 950 000
C)	Compras de mercaderías	13 274 336, 28	
	Impuesto de ventas	1 725 663, 72	
	Bancos		15 000 000
D)	Inventario de mercaderías	13 274 336, 28	
	Impuesto de ventas	1 725 663, 72	
	Cuentas por pagar		15 000 000

21) Lea la siguiente información sobre inventarios:

<b>Fecha</b>	<b>Compra unidades</b>	<b>Venta unidades</b>	<b>Costo unitario compras ¢</b>	<b>Costo total compras ¢</b>
01/08/2007	1250	821	75	93 750
09/08/2007	2500	1964	85	212 500
18/08/2007	1780	1220	87	154 860
27/08/2007	987	-	78	76 986
<b>Totales</b>	<b>6517</b>	<b>4005</b>		<b>538 096</b>

Al utilizar el método promedio ponderado para valuar los inventarios, ¿cuál es el valor del inventario final?

- A) ¢ 203 441, 00
- B) ¢ 207 410, 95
- C) ¢ 330 685, 05
- D) ¢ 538 096,00

22) Considere la siguiente información sobre administración de inventarios:

Documento confeccionado por el departamento de compras con el fin de solicitarle a un proveedor mercadería.  
Se debe especificar el tipo de producto y el precio convenido, fecha del pedido, fecha de entrega.

¿A cuál documento hace referencia la información anterior?

- A) Orden de compra.
- B) Informe de recepción.
- C) Requisición de compra.
- D) Requisición de materiales

23) Lea la siguiente información sobre activos diferidos:

Una empresa que presta servicios de mantenimiento a edificios adquirió el 1 de enero de 2013, una póliza de riesgos del trabajo la cual se cancela por año natural del 1 de enero al 31 de diciembre. Por un monto de ₡ 2 400 000, donde se registró como activo diferido.

De acuerdo con la información anterior, y tomando en cuenta que no había hecho registros mensuales correspondiente al gasto por pólizas de seguro. ¿cuál es monto del ajuste al 30 de setiembre de 2013 por los meses consumidos o gastados?

- A) ₡ 2 400 000
- B) ₡ 1 200 000
- C) ₡ 1 800 000
- D) ₡ 600 000

24) Lea las siguientes afirmaciones sobre contratos de arrendamiento:

- I. Se puede extender entre seis y doce meses.
- II. Arrendamiento a corto plazo que con frecuencia es cancelable.
- III. Contiene una opción para comprar el activo a un precio más alto.
- IV. El período de arrendamiento es igual o mayor que el 75% de la vida económica estimada del activo.

De las anteriores afirmaciones, ¿cuál corresponden al arrendamiento financiero?

- A) I
- B) II
- C) III
- D) IV

25) Lea la siguiente información sobre propiedad, planta y equipo:

Una empresa de transportes adquirió el 1 de enero de 2013 un autobús de lujo para prestar servicios de excursiones en todo el país, por un monto de ₡ 50 000 000, con un valor residual o de rescate de ₡ 5 000 000, y una vida útil de 7 años: La empresa como política registra las depreciaciones correspondientes al cierre del periodo fiscal 30 de setiembre y desde el primer día de la adquisición del activo, además utiliza el sistema suma de dígitos o saldos decrecientes para el registro de la depreciación.

Según la información anterior, ¿cuál es el valor en libros del autobús, después del ajuste por depreciación al 30 de setiembre de 2013?

- A) ₡ 41 562 500
- B) ₡ 38 750 000
- C) ₡ 11 250 000
- D) ₡ 8 437 500

26) Lea la siguiente información sobre propiedad, planta y equipo:

La empresa Sinsa S.A adquirió una máquina con un costo de ₡ 8 000 000, con un valor de salvamento de ₡ 400 000 y una vida útil de 7 años. La empresa utiliza el método línea recta para depreciar sus activos. El cierre contable se realiza el 30 de setiembre de cada año. La máquina se adquirió el 01 de octubre de 2010.

¿Cuál es el monto de la depreciación acumulada al 30 de setiembre de 2011, después de aplicar el asiento de ajuste (redondee con dos decimales)?

- A) ₡ 6 914 285, 71
- B) ₡ 1 900 000, 00
- C) ₡ 1 628 571, 43
- D) ₡ 1 085 714, 29

27) Lea la siguiente información sobre pasivos diferidos:

La empresa Muebles de Madera S.A, el 01 de marzo de 2013, recibió de un cliente la suma de ₡ 7 000 000 para la confección de 20 juegos de mesas con sus respectivas sillas, los cuales deberán ser entregados en un periodo de 3 meses a partir de la fecha del pago de los mismos, al 1 de mayo de 2013, se había confeccionado 15 juegos y entregados al cliente.

De acuerdo con la información anterior, ¿cuál es el monto de la cuenta adelantos de clientes que la empresa Muebles de Madera S.A, una vez realizado el ajuste de lo confeccionado y entregado al cliente?

- A) ₡ 7 000 000
- B) ₡ 5 250 000
- C) ₡ 1 750 000
- D) ₡ 350 000

28) Lea la siguiente información sobre pasivos corriente:

Una empresa comercial realizó compras para revender por la suma de ₡ 15 000 000, con el impuesto de ventas incluido del 13%, en condiciones de crédito, en la misma fecha realiza un abono de ₡ 3 390 000 20% mediante un cheque de la propia empresa, y adicionalmente se firma un documento por el saldo adeudado.

De acuerdo con la información anterior, ¿cuál es el monto del documento firmado por la deuda?

- A) ₡ 16 950 000
- B) ₡ 13 560 000
- C) ₡ 7 500 000
- D) ₡ 3 390 000

29) Considere la siguiente información sobre sociedades anónimas:

Se constituye una sociedad con un capital de ₡ 8 000 000 dividido en acciones comunes de ₡ 100 000 cada una. En la fecha de la constitución quedan suscritas el 90% de las acciones.

De acuerdo con la información anterior, ¿cuál es el monto correspondiente al 10 % de las acciones comunes que no fueron suscritas?

- A) ₡ 8 000 000
- B) ₡ 4 500 000
- C) ₡ 7 200 000
- D) ₡ 800 000

30) Considere las siguientes cuentas de una sociedad anónima:

A continuación, las siguientes listas de cuentas de la sección patrimonial de una sociedad:

- |                                   |             |
|-----------------------------------|-------------|
| • Acciones en tesorería           | ₡ 1 400 000 |
| • Capital acciones comunes        | ₡ 8 000 000 |
| • Reserva Legal                   | ₡ 400 000   |
| • Capital acciones preferenciales | ₡ 4 000 000 |
| • Reserva para contingencias      | ₡ 800 000   |

Según la información anterior, ¿cuánto suman las cuentas que pertenecen al superávit ganado aplicado?

- A) ₡ 12 000 000
- B) ₡ 8 000 000
- C) ₡ 1 400 000
- D) ₡ 1 200 000

31) Considere la siguiente información sobre auditoría:

Auditoría realizada por expertos pertenecientes a un departamento de la propia empresa y se dedican a controlar la gestión y la contabilidad de la empresa.

De acuerdo con la información anterior, ¿a cuál tipo de auditoría se hace referencia?

- A) Fiscal
- B) Interna
- C) Externa
- D) Gubernativa

32) Lea la siguiente información:

Consiste en una verificación física de la existencia de valores (hasta por el monto que indique la cuenta mayor) y puede estar representada por comprobantes, billetes, monedas, cheques u otras formas de efectivo de manera que, bajo condiciones ideales el monto representado en la cuenta debe coincidir con los valores existentes físicamente.

La información anterior corresponde al concepto denominado

- A) revisión.
- B) inventario.
- C) arqueo de caja.
- D) cierre de tesorería.



33) Lea la siguiente información sobre conciliaciones bancarias:

La empresa Favorita S.A, muestra los siguientes datos para la conciliación bancaria al 31 de julio de 2012:

Saldo en libros al 31 de julio de 2012	₡ 3 751 815
Saldo en bancos al 31 de julio de 2012	₡ 3 651 715
Depósitos en tránsito	₡ 500 000
Cheques pendientes de cambio	₡ 475 200
Notas de débito sin contabilizar	₡ 50 800
Notas de crédito sin contabilizar	₡ 100 500
Cheque # 1528 por un monto de ₡ 125 000, rebajado por el banco y corresponde a otra compañía.	

De acuerdo con la información anterior, ¿cuál es el monto ajustado en bancos y libros al 31 de julio de 2012?

- A) ₡ 4 100 715
- B) ₡ 3 901 615
- C) ₡ 3 801 515
- D) ₡ 3 701 415

34) Considere la siguiente información sobre control interno:

- I. El encargado de cuentas por cobrar puede tener acceso a todo el efectivo.
- II. Quien recibe las cancelaciones de cuentas por cobrar debe realizar los depósitos de los mismos, así como, el registro correspondiente.
- III. Cuando un cliente cancela una cuenta por cobrar en la empresa, deberá hacerlo en la caja, se le confeccionará un recibo y luego se le notificará al encargado de las cuentas por cobrar, el movimiento realizado.
- IV. El cobrador entrega el dinero, producto de la cobranza al cajero de la empresa, éste confecciona el depósito y notificará al encargado de cuentas por cobrar, según los recibos proporcionados por el cobrador.

De acuerdo con la información anterior, ¿cuáles son controles internos correctos de las cuentas por cobrar?

- A) I y II
- B) I y III
- C) II y IV
- D) III y IV

35) Lea la siguiente información sobre cuentas por cobrar:

Este es un fragmento de una balanza de comprobación por saldos sin ajustar al 30 de setiembre de 2013.

<u>Cuenta</u>	<u>Debe</u>	<u>Haber</u>
Cuentas por cobrar	₪ 800 000	
Estimación por incobrables		₪ 2 000
Ventas		₪ 200 000

La empresa utiliza el método de porcentaje sobre el saldo de las cuentas por cobrar del 5 % de incobrabilidad.

De acuerdo con la información anterior ¿por cuánto es el monto del ajuste de la cuenta estimación por incobrables al 30 de setiembre de 2013?

- A) ₪ 42 000
- B) ₪ 40 000
- C) ₪ 38 000
- D) ₪ 2 000

36) Lea la siguiente información sobre cuentas por cobrar:

La empresa Comercial del Oeste S. A., realizó ventas al crédito por ₪ 8 000 000, más el impuesto de ventas, a un plazo de 30 días.

De acuerdo con la información anterior, ¿cuál monto registra cuentas por cobrar en el asiento de diario?

- A) ₪ 9 040 000
- B) ₪ 8 000 000
- C) ₪ 7 079 646
- D) ₪ 1 040 000

37) Considere la siguiente información sobre control interno:

Debe existir acceso restringido a zonas de almacenaje, producción y embarques con el fin de establecer responsabilidad del personal involucrado en el manejo físico de los bienes.

La información anterior corresponde a una norma de control interno correspondiente a

- A) inventarios.
- B) inversiones.
- C) cuentas por pagar.
- D) propiedad, planta y equipo.

38) Lea la siguiente información sobre inventarios:

Fecha	Unidades	Detalle	Costo de compra ¢	Costo de mercado ¢
01-05-2014	250	Inventario inicial	325,00	315,00
02-05-2014	300	Primer compra	315,00	318,00
03-05-2014	275	Segunda compra	325,00	320,00
04-05-2014	280	Tercer compra	315,00	300,00
05-05-2014	292	Cuarta compra	325,00	326,00

De acuerdo con la información anterior, ¿cuál es monto del inventario final, al utilizar el método de base del costo de mercado el más bajo?

- A) ¢ 448 225
- B) ¢ 441 342
- C) ¢ 440 150
- D) ¢ 400 000

39) Considere la siguiente información sobre inventarios:

Fecha	Detalle	Cantidad	Costo unitario ¢	Costo total ¢
01/10/2007	Inventario inicial	550	1 250,00	687 500,00
15/10/2007	I compra	780	1 335,00	1 041 300,00
30/10/2007	II compra	500	1 425,00	712 500,00
15/11/2007	III compra	275	1 550,00	426 250,00
15/12/2007	IV compra	500	1 575,00	787 500,00
				<b>3 655 050,00</b>

El día 31 de diciembre de 2007, se realiza el conteo físico de la mercadería quedando en existencia 850 unidades.

¿Cuál es el valor del inventario final al utilizar el método última factura?

- A) ¢ 1 192 626, 68
- B) ¢ 1 338 750, 00
- C) ¢ 2 764 125, 00
- D) ¢ 4 102 875, 00

40) Lea la siguiente información sobre inversiones:

La empresa comercial El Gran Precio S.A, adquirió en un banco estatal certificados de depósito a largo plazo con las siguientes características:

Cantidad de certificados: 5  
Valor nominal: ¢ 1 000 000  
Fecha de emisión: 2 de octubre del 2012  
Fecha de vencimiento: 1 de octubre del 2017  
Tasa de interés: 14 % anual  
Cupones trimestrales: vencimiento 1 de enero, 1 abril, 1 julio, 1 de octubre

La empresa comercial El Gran Precio S.A vendió el 2 de abril de 2013 a otra entidad los 5 certificados de depósito a su valor nominal.

De acuerdo con la información anterior, ¿cuál es el monto por la venta de los certificados tomando en cuenta que ya había retirado el día anterior el cupón por los intereses respectivos?

- A) ¢ 5 350 000
- B) ¢ 5 175 000
- C) ¢ 5 000 000
- D) ¢ 175 000

41) Lea la siguiente información relacionada con recursos naturales:

Maderas de Bosque S. A. tiene 2 hectárea y media de terreno con una plantación de madera de Teca en producción, el valor promedio de cada árbol es de ₡ 115 000, según el inventario de madera en pie (plantados), se estima que en hay en promedio 500 árboles por hectárea.

A 31 de agosto de 2013 se han extraído 750 árboles y no se ha registrado el agotamiento.

Según la información anterior, ¿cuál es el monto en colones del costo del agotamiento de la plantación de madera de Teca al 31 de agosto de 2013?

- A) ₡ 115 000 000
- B) ₡ 86 250 000
- C) ₡ 57 500 000
- D) ₡28 750 000

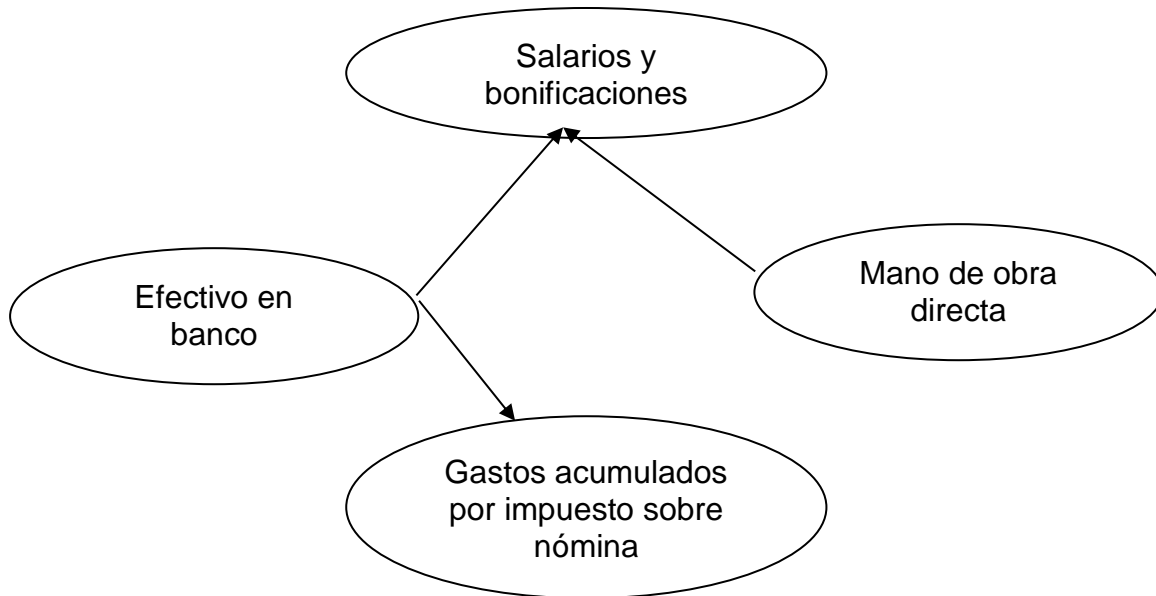
42) Lea la siguiente información de la auditoría de estados financieros:

Balance de comprobación por saldos al 30 de setiembre de 2012		
Descripción de las cuentas	Debe	Haber
Caja	₡ 1 500 000	
Bancos	1 200 000	
Inventarios	800 000	
Terrenos	2 500 000	
Edificios	3 000 000	
Gasto por salarios	600 000	
Gastos por publicidad		400 000
Cuentas por pagar		1 500 000
Capital social		4 000 000
Hipotecas por pagar		1 000 000
Ingresos por servicios		3 500 000
Sumas Iguales	₡ 10 000 000	10 000 000

De acuerdo con la información anterior, hay una cuenta mal ubicada de acuerdo a la naturaleza del saldo. El auditor hará la recomendación para ubicarla correctamente, para que las sumas iguales del balance sean las correctas, el monto de dicha cuenta es por

- A) ₡4 000 000
- B) ₡3 500 000
- C) ₡600 000
- D) ₡400 000

43) Considere el siguiente esquema:



De acuerdo con el esquema anterior, estas cuentas pertenecen al ciclo denominado

- A) adquisiciones y pagos.
- B) ventas y cobranzas.
- C) nómina y personal.
- D) cuentas por pagar.

44) Considere la siguiente información sobre auditoría:

Esta prueba consiste en comprobar que el sistema de control interno en operación para el ingreso del dinero es adecuado y que los ingresos que debieron producirse se han dado en la realidad.

Para la realización de esta prueba la cédula utilizada se denomina

- A) arqueo caja.
- B) conciliación bancaria.
- C) trabajo prueba de egresos.
- D) trabajo prueba de ingresos.

45) Considere la siguiente información sobre auditoría:

Se confecciona con el propósito de determinar si el comportamiento histórico de las erogaciones responde a situaciones previstas, o si, por el contrario, manifiesta un comportamiento anormal que requiere ser investigado.

Según la información anterior, ¿cuál es el documento que se debe confeccionar?

- A) Arqueo caja
- B) Sumaria de ingresos
- C) Conciliación bancaria
- D) Cédula analítica de gastos

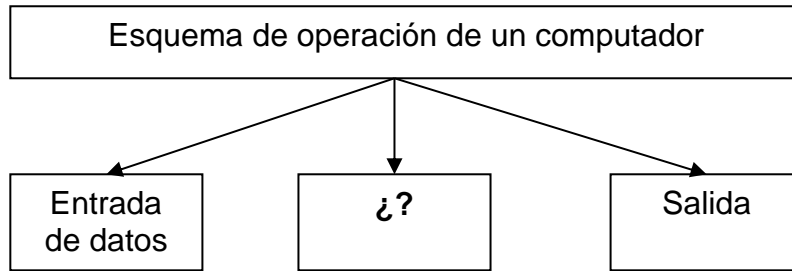
46) Considere las siguientes características sobre auditoría operacional:

- I. Limitado a las operaciones financieras.
- II. No existen todavía normas de auditoría generalmente aceptadas.
- III. Puede cubrir todas las operaciones o actividades que realiza un organismo, entidad o empresa.
- IV. Emitir opinión o dictamen sobre la razonabilidad de la situación financiera de una entidad a una fecha dada.

¿Cuáles números corresponden a características de la auditoría operacional?

- A) I y II
- B) I y IV
- C) II y III
- D) III y IV

47) Considere siguiente esquema incompleto sobre auditoría:



¿Cuál opción completa correctamente el esquema anterior?

- A) Planeamiento
- B) Evaluación
- C) Evidencia
- D) Proceso

48) Considere la siguiente información sobre administración:

Corresponde a la teoría más conocida de la motivación: La jerarquía de las necesidades básicas. Propone la idea de que dentro de cada ser humano existe una jerarquía de cinco necesidades:

- Autorrealización
- Fisiológicas
- Seguridad
- Sociales
- Estima

¿A cuál autor de la administración hace referencia la información anterior?

- A) Douglas Mc Gregor
- B) Abraham Maslow
- C) Frederick Taylor
- D) Henry Fayol



- 49) A continuación se presentan dos columnas, (A) corresponde a las etapas del proceso para proveer recurso humano y (B) sus definiciones:

A. Etapas	B. Definiciones
I. Inducción	m. Proceso para escoger a los candidatos adecuados para las necesidades de la organización.
II. Selección	n. Proceso donde el empleado nuevo conoce las políticas y las instalaciones de la empresa.
III. Capacitación	o. Proceso de instrucción que se le brinda al trabajador.

¿Cuál es la relación correcta entre ambas columnas?

- A) I m II n III o  
 B) I o II n III m  
 C) I n II m III o  
 D) I m II p III n

- 50) Lea la siguiente información relacionada con salud ocupacional, columna A Agentes, columna B ejemplos de agentes:

A: Agentes	B: Ejemplos de agentes
I. Biológicos	m. Temperatura, humedad, radiaciones, iluminación y ruidos.
II. Químicos	n. Polvos, nieblas, gases y vapores.
III. Físicos	o. Virus, bacterias y hongos.

De acuerdo con la información anterior, ¿cuál es la relación correcta entre ambas columnas?

- A) I n II o III m  
 B) I o II m III n  
 C) I n II m III o  
 D) I o II n III m

51) Considere la siguiente información sobre la hoja electrónica Microsoft Excel:

Fila	Columna A	Columna B
1	Ventas	₪ 200 000
2	Ingresos por intereses	₪ 15 000
3	Costo de ventas	₪ 175 000

De acuerdo con la información anterior de la hoja electrónica, ¿cuál es la fórmula utilizada para obtener la utilidad bruta?

- A) = B1 - B2
- B) = B1 - B3
- C) = B1 + B2
- D) = B2 - B3

52) Lea cuidadosamente la siguiente información:

Los estudiantes de una sección se reunieron en la biblioteca del colegio para realizar un trabajo de investigación sobre la administración de recursos humanos.

Durante la jornada de trabajo, los estudiantes mostraron las siguientes conductas:

- No dejaban trabajar a los demás.
- No lograron ponerse de acuerdo.
- Dos estudiantes no colaboraron con la investigación.
- A un estudiante no le asignaron ninguna tarea porque desconfiaban de su capacidad.

¿A qué tipo de trabajo corresponde la información anterior?

- A) En grupo
- B) En equipo
- C) De control
- D) De mejoramiento

53) Lea las siguientes situaciones referentes a etiqueta:

- I. Colocar la servilleta en el regazo cuando llega la comida
- II. Saludar discretamente a la persona que nos recibe.
- III. Ir delante de la esposa para guiarla a la mesa.
- IV. Llamar al mesero y pedirle la carta.
- V. Referirse a los precios de la carta.
- VI. Sentarse primero que la esposa.

¿Cuáles números identifican situaciones correctas en etiqueta?

- A) I II y III
- B) I IV y VI
- C) II IV y V
- D) II IV y VI

54) Considere la siguiente información sobre la mezcla de mercadeo:

Una fábrica de muebles decidió vender en consignación a los puntos de venta, en lugar de vender directamente al cliente.

La anterior información, hace referencia al concepto denominado

- A) plaza.
- B) precio.
- C) producto.
- D) promoción.

55) Considere la siguiente información sobre matemática financiera:

Una persona deposita ₡ 2 500 000 en un certificado que al término de 20 meses obtendría ₡ 500 000 de intereses.

¿Cuál es la tasa de interés simple anual al que fue colocado el certificado?

- A) 12%
- B) 18%
- C) 20%
- D) 22%

56) Considere la siguiente información sobre matemática financiera:

Un pagaré por ₡ 22 000 se descuenta 120 días antes de su vencimiento.

¿Cuál es el valor líquido del pagaré con descuento bancario, si le aplican una tasa de descuento del 9% anual (tiempo ordinario)?

- A) ₡ 660, 00
- B) ₡ 1 320, 00
- C) ₡ 21 340, 00
- D) ₡ 21 3492, 04

57) Lea la siguiente información sobre costos:

Para producir un artículo se necesitan 800 gramos de materia prima. Si 1000 gramos de materia prima cuestan ₡ 5 000.

¿cuántos artículos se pueden producir con ₡ 400 000 de materia prima, de acuerdo con la información anterior?

- A) 50
- B) 100
- C) 400
- D) 800

58) La empresa LUNA DE ORO emplea el sistema de ordenes específicas y sus registros reflejan la siguiente información:

Materiales directos ₡ 30 000  
Mano de obra directa ₡ 61 000  
Costos de distribución ₡ 39 000  
Costos indirectos de fabricación aplicados ₡ 48 000

De acuerdo a la información anterior, ¿cuál es el costo de producción?

- A) ₡ 91 000
- B) ₡ 130 000
- C) ₡ 139 000
- D) ₡ 178 000

59) Lea la siguiente información sobre contabilidad administrativa:

A: Tipos de contabilidad	B: Características
I. Administrativa II. Financiera	m Provee información requerida para las operaciones de planeación, evaluación y control, salvaguardando los activos de la organización. n Participar en la toma de decisiones estratégicas, tácticas y operacionales, contribuyendo a coordinar los efectos en toda la organización. o Recopila, registra, clasifica, resume e informa las operaciones que pueden cuantificarse en dinero y que realiza una entidad económica. p Se interesa principalmente en los estados financieros para uso externo por parte de los inversionistas.

¿Cuál es la forma correcta de asociar los tipos de contabilidad en la columna A, con las respectivas características de la columna B.

- A) I m, o - II n, p
- B) I p, o - II n, o
- C) I o, p - II m, n
- D) I m, n - II o, p

60) Lea la siguiente información sobre presupuesto:

La compañía Famosa, S.A. presenta la siguiente información para el mes de marzo:

- Ventas presupuestadas 9 250 unidades.
- Inventario inicial 3 400 unidades.
- Inventario final 3 100 unidades.

¿Cuántas son las unidades de producción requeridas para el mes de marzo?

- A) 8 950
- B) 9 250
- C) 3 400
- D) 3 100

61) Lea la siguiente información sobre presupuestos:

Una empresa presenta la siguiente proyección para el próximo año fiscal:

- 15 250 unidades por vender a ¢ 1950 cada una.
- Costo de ventas corresponde a un 60% de las ventas presupuestadas.
- Gastos de operación ¢ 2 225 000

De acuerdo con la información anterior, ¿cuál dato corresponde a la utilidad de operación presupuestada?

- A) ¢ 9 670 000
- B) ¢ 17 842 500
- C) ¢ 27 512 500
- D) ¢ 29 737 500

62) Lea la siguiente información sobre estadística, columna A: selección de muestras, columna B: definiciones:

A: Selección de muestras	B: Definiciones
I. Intencional	n. Se le da a cada uno de los elementos de la población una probabilidad conocida de ser incluido en la muestra.
II. Por conveniencia	o. Se utiliza el juicio de una persona con experiencia y conocimiento con respecto a la población que se estudia.
III. Aleatoria o al azar	p. Se escoge las unidades o elementos que están disponibles que son más fáciles de conseguir.

De acuerdo con la información anterior, ¿cuál es la relación correcta entre ambas columnas?

- A) I n II o III p
- B) II n III o I p
- C) I o II p III n
- D) I n II p III o

63) Lea la siguiente información sobre estadística:

Los integrantes de un equipo de fútbol son 14, con los siguientes datos de peso en kilogramos.

82 – 70 – 74 – 68 – 67– 71– 69 – 72 – 70 – 76 – 81 – 75 – 70 – 67

De acuerdo con la información anterior, ¿cuál es la moda y la mediana?

- A) 67 y 71,00
- B) 67 y 69,00
- C) 70 y 67,50
- D) 70 y 70,50

64) Considere la siguiente información sobre estadística:

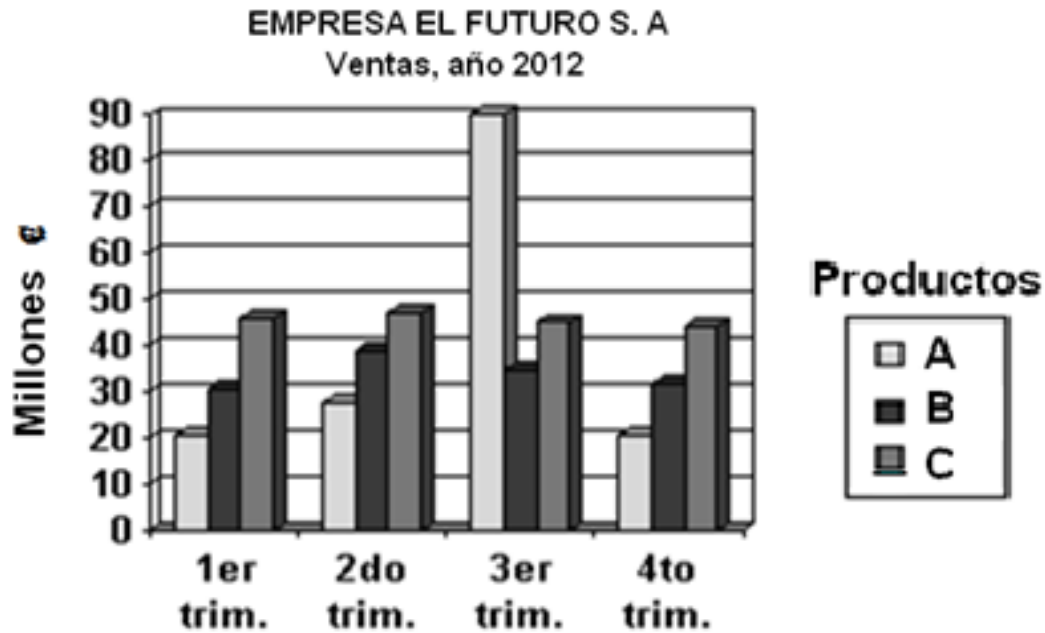
En un grupo de 10 microempresarios emprendedores, se hizo un estudio para determinar varios comportamientos sociales. La edad cumplida en años de las personas encuestadas es la siguiente:

28 25 31 33 34 33 30 30 33 31

Con base en la información anterior, ¿cuál es el valor de la moda?

- A) 30,00
- B) 33,00
- C) 34,00
- D) 35,00

65) Observe la siguiente figura relacionado con un gráfico:



¿A cuál tipo de gráfico se refiere la figura anterior?

- A) Horizontal
- B) Dispersión
- C) Compuesto
- D) Comparativo

66) Considere la siguiente información sobre principios cooperativas:

Todos sus miembros tienen iguales derechos y deberes; cada asociado tiene derecho a un solo voto sin importar el monto de capital que tenga en la cooperativa.

¿A cuál principio cooperativo se refiere el párrafo anterior de?

- A) Libre adhesión.
- B) Control democrático.
- C) Retorno de excedentes.
- D) Interés limitado al capital.



67) Considere la siguiente información sobre legislación laboral:

- I. Investigar los accidentes que ocurran.
- II. Cuidar y utilizar correctamente el equipo que le suministren.
- III. Proporcionar el equipo y protección necesarios para la realización del trabajo.
- IV. Obligar a los trabajadores a comprar los equipos de protección necesarios para que realizar el trabajo.

Según la información anterior, ¿cuáles números corresponden a las obligaciones de los patronos?

- A) I y III
- B) I y IV
- C) II y III
- D) II y IV

68) Lea la siguiente información sobre legislación laboral:

Una señora labora para una empresa comercial privada desde el año 2010, con la siguiente información de salarios devengados en el periodo correspondiente al año 2011 – 2012. De acuerdo al siguiente informe:  
Mes de diciembre de 2011 por un monto de ₡ 400 000.  
De enero a junio de 201 por un monto de ₡ 425 000 mensual.  
De julio a diciembre de 201 por un monto de ₡ 450 000 mensual.

De acuerdo a la información anterior, ¿cuál será el monto del aguinaldo a recibir en el mes de diciembre de 2012?

- A) ₡ 400 000, 00
- B) ₡ 433 333, 33
- C) ₡ 450 000, 00
- D) ₡ 470 833, 33

69) Lea la siguiente información sobre Legislación Laboral:

La señorita Ana Lorena Monge Abarca laboró en una empresa industrial como vendedora, desde el 1 de mayo de 2005 y fue despedida por motivo de reorganización el 15 de julio de 2012. Devengando un salario en el último semestre por ₡ 275 000 por mes.

De acuerdo con la información anterior, ¿cuál es monto de la cesantía en colones por el tiempo laborado?

- A) 1 650 000
- B) 1 182 500
- C) 1 411 666, 67
- D) 1 925 000, 33

70) Lea la siguiente información sobre legislación tributaria:

La empresa comercial Grano Dorado S.A, se inscribió en el sistema de régimen simplificado para declarar el impuesto de ventas y de renta, con la siguiente información tomada de los registros contables referente a las compras mensuales.

<u>Datos mensuales</u>	<u>Compras gravadas ₡</u>	<u>Compras exentas ₡</u>
Enero de 2013	900 000	150 000
Febrero de 2013	875 000	150 000
Marzo de 2013	850 000	125 000

Nota: Los factores aplicados para los respectivos impuestos son, renta 0,05, ventas 0,02.

De acuerdo con la información anterior, ¿cuál es el monto total en colones de ambos impuestos, correspondiente al I trimestre de 2013?

- A) 111 250
- B) 165 625
- C) 182 000
- D) 205 000

71) Lea el siguiente texto sobre la legislación tributaria:

Es el acto que se da en la venta de las mercancías, en el momento de la facturación o entrega de ellas, en el acto que se realice primero, en la prestación de servicio, en el momento de la facturación.

Según la información anterior, ¿a cuál término se refiere?

- A) Exención
- B) Sujeto activo
- C) Sujeto pasivo
- D) Hecho generador

Read the text

#### BOSTON CONSULTING GROUP

BCG is an international consulting firm working with clients to create solutions to their problems. One of the most important advantages of working for BCG is the salary employees receive because the average employee earns about \$139,000 every year. Besides the fixed wage, bonuses and overtime pay are not included in the average salary. This means employees will have chances to make their salary even better. For BCG, a quality life style does not only include being wealthy, it also likes to keep its staff fit and healthy so it organizes lots of sports and activities. Another benefit is that employees can do voluntary work for charities, participating in activities such as save the Children; once a year.

*Adapted from SGI, April 10<sup>th</sup> <http://www.stgeorges.co.uk/blog>*

72) What is the main benefit of working for BCG?

- A) Good salaries increased by different pluses.
- B) Employees participate in sports activities.
- C) Employees earn \$139,000 a year.
- D) There is voluntary work.

Read the following text.

### LONG WORKING HOURS

Working long hours means workers may have more injuries and illnesses. This is the conclusion of a new study in the journal *Occupational and Environmental Medicine*. The team discovered that more than half of the injuries were in jobs that required overtime or had demanding schedules.

The research team found that a major cause for accidents was fatigue and stress created by overworking. They said this was the same for hazardous jobs and boring ones. They also said that commuting time did not affect the risk of injury.

*Adapted from: <http://www.breakingnewsenglish.com/0508/050819-overtime-e.html>*

73) According to the previous information \_\_\_\_\_

- A) Working long hours is healthy.
- B) commuting time represents a risk of injury.
- C) tiredness and tension cause most of the injuries.
- D) workers feel relieved by having demanding schedules

Read the following text.

### LISTENING WELL

Being a good listener is a soft skill employers are looking for when hiring people for their companies. It is so important that, nowadays, there are even trainings about how to become a better listener.

If the employees in a company are good listeners, customer satisfaction will increase, productivity will be better and with fewer mistakes.

74) Based on the previous information, why is listening important for employers? Because \_\_\_\_\_

- A) production will have a lot of mistakes.
- B) it will provide more training opportunities.
- C) companies need people with more soft skills.
- D) it will make clients feel happier with the service.

Read the following information.

Mr. Evans is asking about some details to his receptionist	
Receptionist:	Mr. Evans, I already have all the details for your upcoming meeting at HSBC Bank Australia in Sydney.
Mr. Evans:	Great, I know it will be a long journey, please tell me.
Receptionist:	You are traveling business class, flight A247 SJO to SYD. With a layover of 20 hours in Los Angeles, California. You will have accommodation at Hyatt Regency LA, it includes a set of amenities for your convenience.
Mr. Evan	It sounds astounding.
Receptionist:	You will be leaving on October 3rd, at 4:50a.m. and you will be arriving in Sydney on October 5th at 3:30p.m.
Receptionist:	You will be leaving on October 3rd, at 4:50a.m. and you will be arriving in Sydney on October 5th at 3:30p.m.
Mr. Evans:	Could you please arrange transportation from SYD airport to the hotel?
Receptionist:	It goes on HSBC Bank; they will be taking care of you the moment you get to Sydney.

75) What is the main idea of the conversation?

- A) The upcoming meeting at HSBC Bank Australia.
- B) The amenities Hyatt Regency Hotel offers.
- C) The welcoming HSBC will give Mr. Evans.
- D) The itinerary for Mr. Evans business trip.

## ANEXO 1

### FÓRMULAS PARA LAS PRUEBAS DE CONTABILIDAD

<u>Fórmulas estadísticas</u>	<u>Fórmulas matemáticas financieras</u>
Moda (Mo): $L_i + \frac{d_1}{d_1+d_2} * c$ Mediana (Me): $L_i + \frac{\frac{n}{2} - F_a}{f_i} * c$ Media aritmética ( $\bar{x}$ ): $\frac{\sum x_i f_i}{n}$	$C = \frac{I}{t * i} \quad i = \frac{I}{C * t} \quad I = C * i * t \quad t = \frac{I}{C * i}$ $S = C (1 + i)^n$
RAZONES FINANCIERAS	
Razón circulante: $\frac{\text{Activo circulante}}{\text{Pasivo circulante}}$  Prueba del ácido:  $\frac{\text{Activo circulante} - \text{inventarios}}{\text{Pasivo circulante}}$	Rotación del activo circulante: $\frac{\text{Ventas netas totales}}{\text{Activo circulante}}$  Rotación de activo fijo: $\frac{\text{Ventas netas totales}}{\text{Activo fijo neto}}$  Rotación de activo total: $\frac{\text{Ventas netas totales}}{\text{Activo total}}$
<u>Costo de no aprovechar el descuento por pronto pago</u> $\frac{\text{DPP}}{100\% - \text{DPP}} * \frac{360}{n}$  <u>Punto de equilibrio</u> Punto de equilibrio unidades: $\frac{\text{CF}}{\text{PV} - \text{CV}}$  Punto de equilibrio colones: $\frac{\text{CF}}{\text{Coeficiente de margen de contribución}}$	<u>Punto de equilibrio</u> Punto de equilibrio financiero: $I + \frac{\text{DP}}{1 - T}$  Punto de equilibrio operativo: $Q = \frac{\text{CF}}{\text{P} - \text{CV}}$  DP: Dividendos acciones preferentes T: tasa de interés anual I: Pago de intereses CF: costos fijos CV: costo variable P: Precio venta

### REGLAS CÁLCULO DE LA CESANTÍA LEY DE PROTECCIÓN AL TRABAJADOR (Artículo 29)

1. Después de un trabajo continuo no menor de tres meses ni mayor a seis, un importe igual a siete días de salario.
2. Después de un trabajo continuo mayor a seis meses, pero menor de un año, un importe igual a catorce días de salario.
3. Después de un trabajo continuo mayor a un año, con el importe de días de salario indicado en la siguiente tabla:

Año 1	19,5 días por año laborado.
Año 2	20 días por año laborado o fracción superior a seis meses.
Año 3	20,5 días por año laborado o fracción superior a seis meses.
Año 4	21 días por año laborado o fracción superior a seis meses.
Año 5	21,24 días por año laborado o fracción superior a seis meses.
Año 6	21,5 días por año laborado o fracción superior a seis meses.
Año 7	22 días por año laborado o fracción superior a seis meses.

# SOLUCIONARIO

## Contabilidad-y Auditoría Ordinaria

ITEM	CLAVE	ITEM	CLAVE	ITEM	CLAVE	ITEM	CLAVE
1.	B	21.	B	41.	B	61.	A
2.	C	22.	A	42.	D	62.	C
3.	B	23.	C	43.	C	63.	D
4.	D	24.	D	44.	D	64.	B
5.	C	25.	A	45.	D	65.	D
6.	B	26.	D	46.	C	66.	B
7.	B	27.	C	47.	D	67.	A
8.	A	28.	B	48.	B	68.	B
9.	C	29.	D	49.	C	69.	C
10.	C	30.	D	50.	D	70.	D
11.	C	31.	B	51.	B	71.	D
12.	B	32.	C	52.	A	72.	A
13.	C	33.	C	53.	A	73.	C
14.	C	34.	D	54.	A	74.	D
15.	B	35.	C	55.	A	75.	D
16.	A	36.	A	56.	C		
17.	B	37.	A	57.	B		
18.	C	38.	C	58.	C		
19.	A	39.	B	59.	D		
20.	D	40.	C	60.	A		